
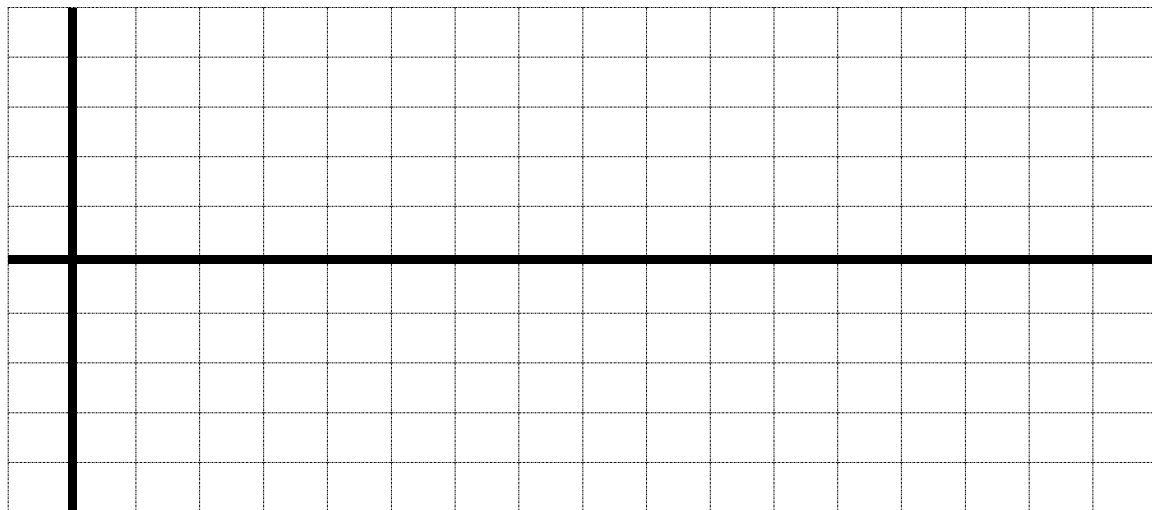
	مدارس الكلية العلمية الإسلامية جبل عمان-الجبيلة العام الدراسي 2026/2025م		
	الرياضيات	المبحث	
	العاشر	الصف	
	حساب المثلثات		الوحدة
	تمثيل الاقترانات المثلثية		الدرس

ارسم منحنى كل من الاقترانات الآتية :

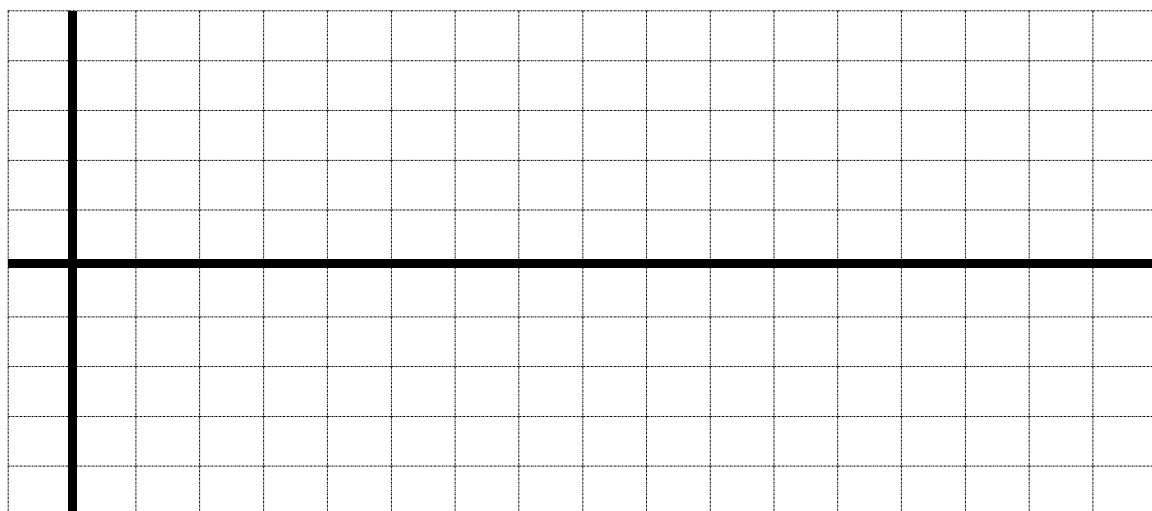
1) $y = \sin x$, $0^\circ \leq x \leq 360^\circ$

x									
y									



2) $y = \cos x$, $0^\circ \leq x \leq 360^\circ$

x									
y									



3) $y = \tan x$, $0^\circ \leq x \leq 360^\circ$

x									
y									

