
	<p style="text-align: center;">ورقة مهمة المبحث: الدراسات الاجتماعية الصف: الخامس</p>		<p style="text-align: center;">مدارس الكلية العلمية الإسلامية جبل عمان/ الجبيهة</p>
<p>الشعبة: ()</p>	<p>الوحدة الرابعة: درس أشكال سطح الأرض</p>	<p>اسم الطالب:</p>	

النتاج: يميز الطالب بين أشكال سطح الأرض:

قارن بين أشكال سطح الأرض في الجدول التالي:



مثال	التعريف	شكل الأرض
		 السهول
		 الهضاب
		 الجبال
تشمل:		<p>الأغوار الأردنية</p>

	<p style="text-align: center;">ورقة مهمة المبحث: الدراسات الاجتماعية الصف: الخامس</p>		<p style="text-align: center;">مدارس الكلية العلمية الإسلامية جبل عمان/ الجبيهة</p>
<p>الشعبة: ()</p>	<p>الوحدة الرابعة: درس أشكال سطح الأرض</p>	<p>اسم الطالب:</p>	

النتاج: يميز الطالب بين أشكال سطح الأرض:

قارن بين أشكال سطح الأرض في الجدول التالي:



مثال	التعريف	شكل الأرض
		 السهول
		 الهضاب
		 الجبال
تشمل:		<p>الأغوار الأردنية</p>

	<p>ورقة مهمة</p> <p>المبحث: الدراسات الاجتماعية</p> <p>الصف: الخامس</p>		 <p>مدارس الكلية العلمية الإسلامية</p> <p>جبل عمان/ الجبيهة</p>
الشعبة: ()	الوحدة الرابعة: درس أشكال سطح الأرض	اسم الطالب:	

النتاج: يميز الطالب بين أشكال سطح الأرض:

املاً الفراغات التالية بما يناسبها:

- 1- تتألف أشكال سطح الأرض في الأردن من _____ و _____ و _____ و _____
- 2- تمثل الهضاب مساحات كبيرة من هضبة البادية الأردنية التي تمثل _____ من مساحة الأردن.
- 3- ما هو أعلى جبل في الأردن؟ _____ كم ارتفاعه؟ _____
- 4- كلما ارتفنا عن سطح البحر كلما _____ درجات الحرارة.
- 5- تتميز جبال عجلون بأنها _____.
- 6- يتميز جبل أم الدامي بأنه منطقة جبلية ذات _____.
- 7- كيف تشكلت الأغوار الأردنية. _____.
- 8- تتميز منطقة الأغوار الأردنية بـ _____ درجة حرارتها .
- 9- بماذا تشتهر الأغوار الأردنية؟ 1 _____ 2 _____

	<p>ورقة مهمة</p> <p>المبحث: الدراسات الاجتماعية</p> <p>الصف: الخامس</p>		 <p>مدارس الكلية العلمية الإسلامية</p> <p>جبل عمان/ الجبيهة</p>
الشعبة: ()	الوحدة الرابعة: درس أشكال سطح الأرض	اسم الطالب:	

النتاج: يميز الطالب بين أشكال سطح الأرض:

املاً الفراغات التالية بما يناسبها:

- 1- تتألف أشكال سطح الأرض في الأردن من _____ و _____ و _____ و _____
- 2- تمثل الهضاب مساحات كبيرة من هضبة البادية الأردنية التي تمثل _____ من مساحة الأردن.
- 3- ما هو أعلى جبل في الأردن؟ _____ كم ارتفاعه؟ _____
- 4- كلما ارتفنا عن سطح البحر كلما _____ درجات الحرارة.
- 5- تتميز جبال عجلون بأنها _____.
- 6- يتميز جبل أم الدامي بأنه منطقة جبلية ذات _____.
- 7- كيف تشكلت الأغوار الأردنية. _____.
- 8- تتميز منطقة الأغوار الأردنية بـ _____ درجة حرارتها .

