

ورقة دراسة "لا تغني عن الكتاب"

المبحث : الدراسات الاجتماعية
الصف : الخامس

الجبيلة / جبل عمان

الدرس : رحلة الى العاصمة عمان

الوحدة : الثالثة / رحلة في وطني


عرف العاصمة؟ هي المدينة التي يكون فيها مقر الحكم ومركز الوزارات والمؤسسات الحكومية.

أسمائها القديمة	لماذا سميت ربة عمون	ما معنى فيلادلفيا
ربة عمون فيلادلفيا	نسبة إلى ربة عمون (عاصمة العمونيون)	الحب الأخوي (أطلقه عليها اليونان)


المواقع الأثرية والحضارية والسياحية في مدينة عمان العاصمة:


أولاً:	المدرج الروماني	جبل القلعة اتخذه العمونيون مقراً للحكم	المسجد الحسيني
منطقة وسط البلد ويوجد فيها	ويوجد فيه متحف الحياة الشعبية	الساحة الهاشمية	
			

ثانياً: مدينة الحسين للشباب / تتكون من عدة مرافق	قصر الثقافة	ستاد عمان الدولي	مبنى صرح الشهيد
			

ثالثاً: صرح الشهيد	ما هو؟	لماذا تم أنشاؤه؟	على ماذا يحتوي؟
	هو متحف وطني يسجل مراحل تاريخ الأردن	تخليداً لذكرى شهداء الوطن.	يوجد فيه معروضات تتحدث عن تاريخ القوات المسلحة الأردنية.
الثورة العربية الكبرى: هي ثورة العرب الأحرار في عام 1916م بقيادة الشريف الحسين بن علي ضد حكم الأتراك.			


4- ما هي أول جامعة أنشئت في الأردن؟	الجامعة الأردنية	أنشئت في عام 1962 م.
-------------------------------------	------------------	----------------------




5- متحف الأطفال	أين يوجد؟	ما هو متحف الأطفال؟
	في حدائق الحسين	هو مكان يوفر تجارب تعليمية وبيئة للتعلم التفاعلي حيث يتعلم الأطفال من خلال اللعب.

6- مدينة الحسين الطبية	صرح طبي متقدم يقدم الخدمات العلاجية للمواطنين وللقوات المسلحة الأردنية والقوات الأمنية
------------------------	--

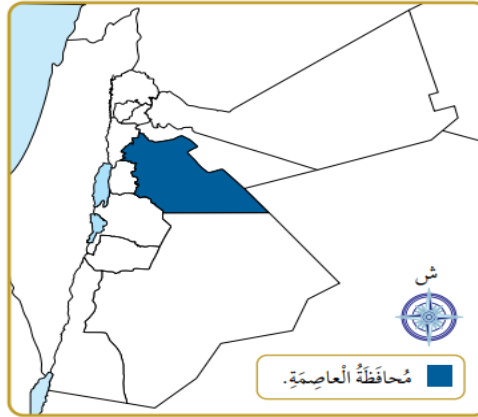
7- قصر العبد	يوجد في منطقة وادي السير	يعود للفترة اليونانية
--------------	--------------------------	-----------------------

8- منطقة أم الرصاص	ماذا يوجد فيها؟	معلومة مهمة
	1- قلعة أم الرصاص 2- عدد من الكنائس	أدرجت ضمن قائمة التراث العالمي التابع لليونسكو عام 2004

9- قصر المشتى	أين يقع؟	من بناه؟
	شمال مطار الملكة علياء الدولي	الأمويين (للراحة والاستجمام)

10- قصر رعدان	من بناه؟	ما سبب بناؤه؟	ماذا يوجد فيه؟	معلومة مهمة
	الملك عبدالله الأول ابن الحسين	ليكون مقرًا رسميًا للملك	الديوان الملكي	فتحت أبوابه لزيارة طلاب المدارس له في العيد الأربعين للملك عبد الله الثاني.

**** معلومة مهمة: تعيين محافظة عمان (عاصمة الأردن) على خريطة الأردن. مطلوب.**




**** أسئلة مهمة**


- أختار رمز الإجابة الصحيحة لكل مما يأتي:
- 1. يعود قصر العبد إلى الفترة:
 - أ- الرومانية. ب- اليونانية. ج- الأموية. د- العباسية.
- 2. الموقع الذي أدرج على لائحة التراث العالمي في عام 2004م، هو:
 - أ- جبل القلعة. ب- عراق الأمير. ج- أم الرصاص. د- سوق جاوا.
- 3. أول جامعة تأسست في الأردن، هي:
 - أ- الجامعة الأردنية. ب- جامعة مؤتة. ج- جامعة اليرموك. د- جامعة الحسين بن طلال.

انتهى ملخص الدرس الأول


بماذا تتميز؟	أكبر المحافظات مساحة	محافظة معان
1- غناها بالموارد الطبيعية مثل (الفوسفات وحجر البناء ورمل الزجاج)		
2- غناها بمشاريع الطاقة.		

المواقع السياحية والأثرية والحضرية في محافظة معان:

1- قصر الملك عبدالله الأول	اتخذهُ الأمير عبدالله الأول ابن الحسين مقرًا له عام 1920	وهو الآن عبارة عن متحف وطني
		


2- جامعة الحسين بن طلال	
-------------------------	---

3- لواء الشوبك	يشتهر بزراعة أشجار التفاح
----------------	---------------------------

4- قلعة الشوبك	ما اسمها القديم	متى أنشئت؟
	مونتريال (وتعني الجبل الملوكي)	في الفترة الأدومية

5- وادي موسى

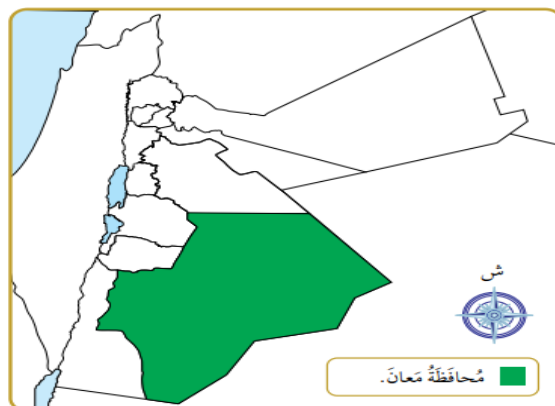
6- البترا (المدينة الوردية)	من نحتها ؟	ما هو السيق ؟	عدد المعالم الأثرية الموجودة في البترا ؟
	الأنباط نحتوها في الصخر	شق صخري كبير في الصخر في مدخل المدينة	الخنزة / الدير / المحكمة
<p>معلومات مهمة: 1- أدرجت البترا على لائحة التراث العالمي</p> <p>2- اختيرت البترا ضمن عجائب الدنيا السبع الجديدة عام 2007م</p>			

محطة شمس معان للطاقة الشمسية	تعد من المشاريع الرائدة في مجال الطاقة المتجددة	هي أكبر محطة لتوليد الطاقة الكهربائية في الأردن	أُنشئت عام 2016
			

● أختار رمز الإجابة الصحيحة لكل مما يأتي:

1. أكبر محافظات الأردن مساحة:
أ- معان. ب- إربد. ج- العاصمة. د- عجلون.
2. أُنشئت محطة شمس معان للطاقة الشمسية في عام:
أ- 2018م. ب- 2016م. ج- 2000م. د- 2020م.
3. الموقع الذي أدرج على لائحة التراث العالمي في عام 1985م، ثم اختير بوصفه إحدى عجائب الدنيا السبع:
أ- أم الرصاص. ب- قلعة الشوبك. ج- البترا. د- الهيشة.

**- معلومة مهمة: تعيين محافظة معان على خريطة الأردن مطلوب.



خريطة المملكة الأردنية الهاشمية.

انتهى ملخص الدرس الثاني



مدارس الكلية العلمية الإسلامية

ورقة دراسة "تغني عن الكتاب"

المبحث : الدراسات الاجتماعية
الصف: الخامس




الجبيلة / جبل عمان

الدرس : رحلة الى محافظة اربد

الوحدة : الثالثة / رحلة في وطني

محافظة اربد	من أسمائها القديمة أربيللا	أطلقه عليها الرومان
-------------	----------------------------	---------------------

المواقع السياحية والأثرية والحضارية في محافظة اربد:

1- سهول حوران	ما هي؟	بماذا تشتهر؟
	سهول واسعة تتميز بخصوبة تربتها	إنتاج الحبوب مثل (القمح و الشعير والعدس)

2- جامعة العلوم والتكنولوجيا	3- متحف بيت عرار
	
يقع داخل حرم الجامعة مستشفى الملك المؤسس	أنشئ لاستضافة الفعاليات الثقافية في اربد



مُصطَفَى وَهْبِي التَّل.



مُصطَفَى وَهْبِي التَّل
شاعِرٌ أُرْدُنِيٌّ وُلِدَ في مَدِينَةِ إِرْبِدَ في عام 1899م. لُقِّبَ بِعَرَّارٍ، وَيُعَدُّ
مِنْ أَشْهَرِ شُعَرَاءِ الْأُرْدُنِّ وَالْوَطَنِ الْعَرَبِيِّ، عَمِلَ مُعَلِّمًا وَمُوظَّفًا
في أَجْهَزَةِ الدَّوْلَةِ الْأُرْدُنِّيَّةِ، وَمِنْ أَهَمِّ أَعْمَالِهِ الْأَدَبِيَّةِ دِيوانُ الشَّعْرِ
(عَشِيَّاتُ وادي اليَاسِرِ).

4- متحف دار السرايا	5- جامعة اليرموك
يعود لفترة الحكم العثماني	ثاني جامعة أنشئت في الأردن

<p>6- بلدة بيت راس</p> 	<p>7- بلدة قويلبة</p> 
<p>1- سماها الرومان (كابتولياس) 2- تشتمل آثارها على الآبار والأعمدة والكنائس الرومانية</p>	<p>1- كانت تسمى (أبيلا) في الفترتين اليونانية والرومانية. 2- تشتهر بخصوبة أراضيها وبساتين الزيتون والرمان. 3- تحتوي على المقابر المحفورة في الصخر، وفيها بعض الأرضيات الفسيفسائية.</p>

<p>8- موقع اليرموك (الشعلة)</p>	<p>9- أم قيس (جدارا)</p>
<p>1- أقيم تخليداً لذكرى معركة اليرموك 2- وقعت على ضفاف نهر اليرموك بين المسلمين والروم 3- تعد معركة اليرموك من المعارك الفاصلة التي أنهت الوجود الروماني في بلاد الشام</p>	<p>1- تطل على نهر اليرموك وبحيرة طبريا 2- من أهم معالمها الأثرية: أ- (المسرح الجنوبي) استخدم في بنائه حجر البازلت ويتسع لـ ثلاثة آلاف شخص ب- الكنيسة البيزنطية</p>
<p>10</p>	<p>نَقُّ اليرموك اكتُشِفَ هذا النَّقُّ في عام 2012م، وَهُوَ أَطْوَلُ نَقِّ مَائِيٍّ فِي الْعَالَمِ وَطَوْلُهُ يَتَرَاوَحُ بَيْنَ (140 – 170) كيلومترًا. بَنَاهُ الرُّومَانُ لِرَبْطِ مَدِينِ (الديكابولس) مَعَ بَعْضِهَا بَعْضًا، وَتُعْذِّيهِ مَجْمُوعَةٌ مِنَ الْيَنَابِيحِ الَّتِي تَرَفُّدُ نَهْرَ اليرموك.</p>  <p>نَقُّ اليرموك.</p>

**** منطقة الأغوار الشمالية:** تشتهر بخصوبة تربتها ووفرة مياهها وغازارة إنتاجها الزراعي ويعد رافداً للاقتصاد الوطني وسد حاجة السوق المحلي من الليمون والبرتقال. ويوجد فيها

<p>1- طبقة فحل</p> 	<p>2- حمامات الشونة الشمالية</p> 	<p>3- مقامات الصحابة</p> 
<p>(اطلق عليها اسم بيلا)</p>	<p>وهي مياه معدنية علاجية حارة يستفاد منها في علاج آلام العضلات والتهاب المفاصل</p>	<p>1- الصحابي معاذ بن جبل 2- شرحبيل بن حسنة</p>

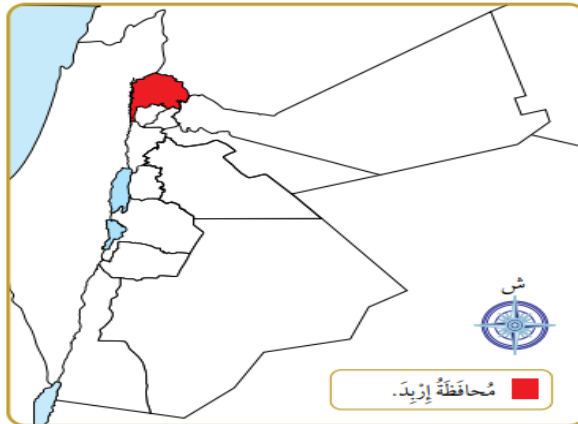
● أختارَ رَمَزَ الإِجابَةِ الصَّحِيحَةَ لِكُلِّ مِمَّا يَأْتِي:

1. أُطْلِقَ اسْمُ جَدَارَا عَلَى:
 - أ- أُمُّ قَيْسٍ. ب- طَبَقَةُ فَحْلٍ. ج- إِرْبِدَ. د- جَرَشٍ.
2. تَقَعُ جَامِعَةُ الِيزْمُوكِ فِي مُحَافَظَةٍ:
 - أ- مَعَانَ. ب- عَمَّانَ. ج- الكَرَكِ. د- إِرْبِدَ.
3. أَقِيمَ مَوْقِعُ الشُّعْلَةِ تَخْلِيدًا لِمَعْرَكَةٍ:
 - أ- أَجْنَادِينَ. ب- الِيزْمُوكِ. ج- القَادِسِيَّةِ. د- مُؤَتَةَ.

حل س 3 ص 76 من أسئلة الوحدة

2. أختارَ رَمَزَ الإِجابَةِ الصَّحِيحَةَ لِكُلِّ مِمَّا يَأْتِي:
 - (1) صَرَحَ يُوفَّرُ تَجَارِبَ تَعْلِيمِيَّةَ وَمَعْرِفِيَّةَ وَبَيِّنَةً لِلتَّعَلُّمِ التَّفَاعُلِيَّ، حَيْثُ يَسْتَكْشِفُ الْأَطْفَالُ الْمَعْرِفَةَ وَيَتَعَلَّمُونَ عَنْ طَرِيقِ اللَّعِبِ:
 - أ- مَتَحَفُ عَرَارٍ. ب- مَتَحَفُ الْحَيَاةِ الشَّعْبِيَّةِ.
 - ج- مَتَحَفُ دَارِ السَّرَايَا. د- مَتَحَفُ الْأَطْفَالِ.
 - (2) يَقَعُ مَقَامُ مُعَاذِ بْنِ جَبَلٍ فِي مُحَافَظَةٍ:
 - أ- مَعَانَ. ب- مَادَّابَا. ج- إِرْبِدَ. د- عَمَّانَ.
 - (3) يَعُودُ مَتَحَفُ السَّرَايَا إِلَى فِتْرَةِ الْحُكْمِ:
 - أ- الْعُثْمَانِيَّ. ب- الرُّومَانِيَّ. ج- الْيُونَانِيَّ. د- الْأُمَوِيَّ.
 - (4) أُطْلِقَ اسْمُ (فِيلادلفيا) قَدِيمًا عَلَى مَدِينَةٍ:
 - أ- مَعَانَ. ب- إِرْبِدَ. ج- مَادَّابَا. د- عَمَّانَ.

** معلومة مهمة: تعيين محافظة اربد على خريطة الأردن مطلوب.



خريطة المملكة الأردنية الهاشمية.

انتهت ورقة دراسة الدرس الثالث