

المبحث : العلوم العامة  
الصف : السادس الأساسي

الشعبة : ( )

للمشهر الثاني

اسم الطالب :

اليوم/ التاريخ : ..... / / 2025

بعد دراستك للامتحان أجيب عن الأسئلة التالية ضمن وقت ( 50 دقيقة )

السؤال الأول: ضع دائرة حول رمز الإجابة الصحيحة فيما يلي: (5علامات)

1. مستوى التنظيم للدماغ:

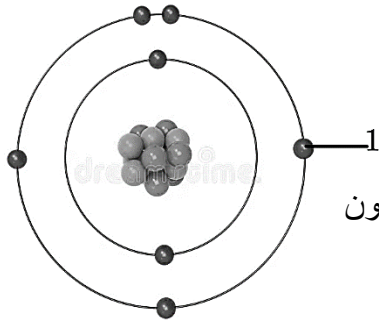
أ. عضو      ب. نسيج      ج. جهاز      د. عدة أجهزة

2. يتكوّن جهاز النقل في النبات من جميع ما يلي ما عدا:

أ. الأوراق      ب. الجذر      ج. الأزهار      د. الساق

3. أحد التالية يُمثّل جزيء:

أ. Al      ب. O<sub>2</sub>      ج. CO<sub>2</sub>      د. (ب+ج)



د. الإلكترون

4. يمثّل الرقم (1) في الشكل المجاور:

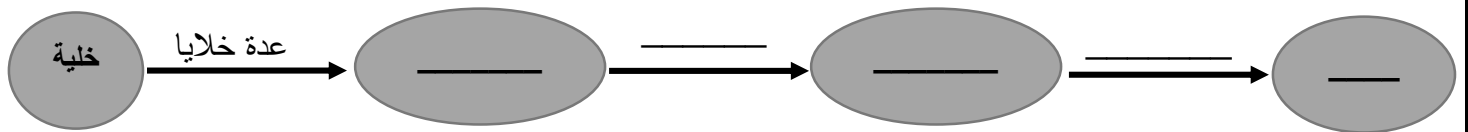
مع تحيات قسم العلوم

أ. البروتون      ب. النيوترون      ج. النواة

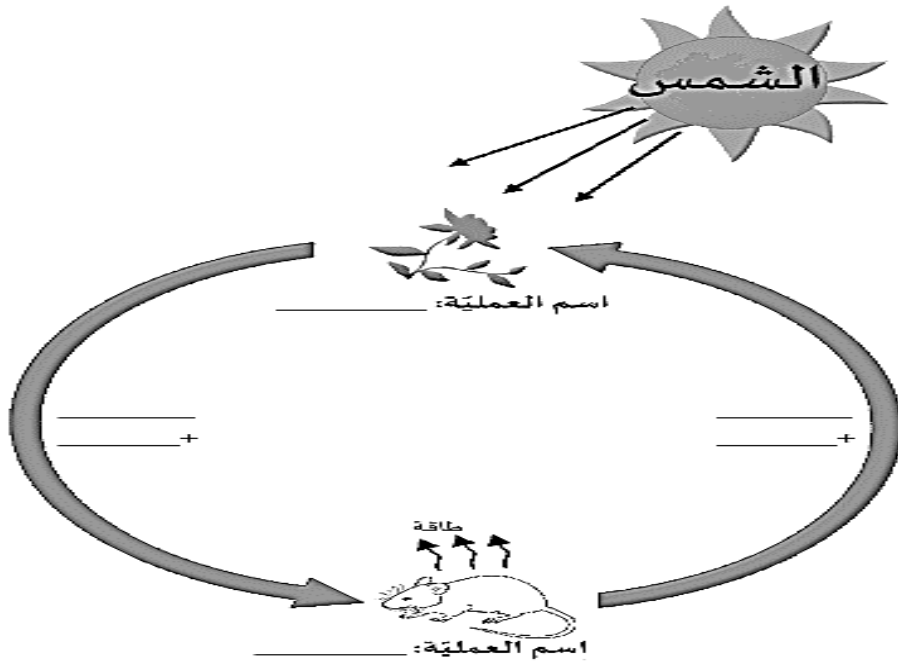
5. العضية المسؤولة عن عملية التنفّس الخلوي في الخلية هي:

أ- الميتوكوندريا      ب- الشبكة الإندوبلازمية      ج- الرايبوسومات      د- البلاستيدات الخضراء

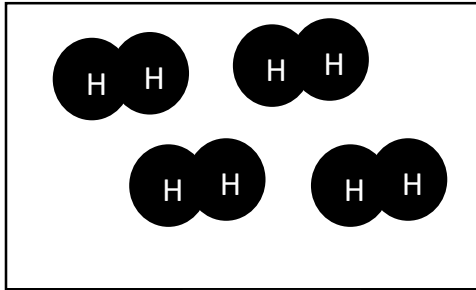
السؤال الثاني: أكمل المخطط المفاهيمي التالي بما يناسبه: (3علامات)



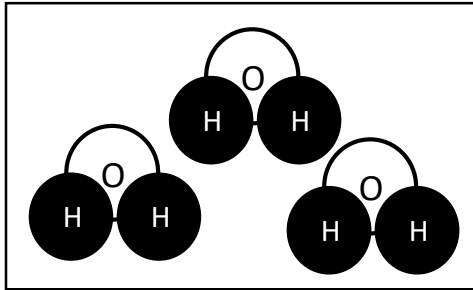
السؤال الثالث: ادرسي الشكل التالي جيّدًا، واملأ/ي الفراغ بما يناسبه: (4علامات)



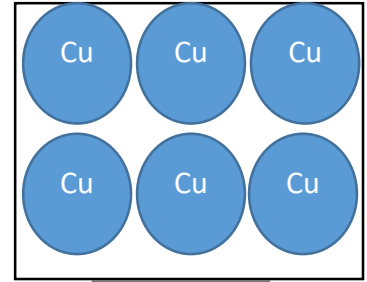
السؤال الرابع: ادرسي الأشكال التالية جيّدًا ثمّ ضعي الرمز المناسب أمام العبارة التي تناسبه: (4علامات)



الشكل 3



الشكل 2



الشكل 1

1. الشكل/الأشكال الذي يُمثّل مركبًا: \_\_\_\_\_
2. الشكل/الأشكال الذي يُمثّل عنصرًا على شكل جزيئات: \_\_\_\_\_
3. الشكل/الأشكال الذي يُمثّل عنصرًا: \_\_\_\_\_

السؤال الخامس: فسّرني كلاً مما يلي:

(2 علامة)

1. تختلف الذرات في خصائصها علمًا بأنها تتشابه في مكوناتها.

---

---

2. تتكامل أجهزة الجسم بعضها مع بعض لأداء وظائفه الحيويّة.

---

---

السؤال السادس: قارني في الجدول التالي بين مكونات الذرة من حيث المطلوب: (2 علامة)

الإلكترونات	النيوترونات	البروتونات	
			مكان وجودها في الذرة
			شحنتها

