
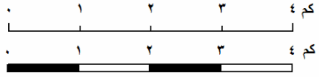


	<p>مهمة رقم ( )</p> <p>المبحث : الدراسات الاجتماعية</p> <p>الصف: السادس</p>		 <p>مدارس الكلية العلمية الاسلامية</p> <p>جبل عمان/ الجبيهة</p>
<p>الشعبة : ( )</p>	<p>الدرس : الخريطة مفهومها وأنواعها</p>	<p>اسم الطالب :</p>	

النتائج التعليمية المتوقعة: يحدد أشكال مقياس الرسم :

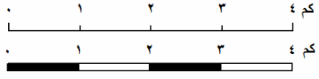
اكتب اسم مقياس الرسم فيما يأتي :



$\frac{1}{1000000}$	<p>10000000:1</p>	<p>4 سنتمتر على الخريطة = 40 كم على الواقع</p>		<p>شكل مقياس الرسم</p>
				<p>نوع مقياس الرسم</p>

	<p>مهمة رقم ( )</p> <p>المبحث : الدراسات الاجتماعية</p> <p>الصف: السادس</p>		 <p>مدارس الكلية العلمية الاسلامية</p> <p>جبل عمان/ الجبيهة</p>
<p>الشعبة : ( )</p>	<p>الدرس : الخريطة مفهومها وأنواعها</p>	<p>اسم الطالب :</p>	

النتائج التعليمية المتوقعة: يحدد أشكال مقياس الرسم :


اكتب اسم مقياس الرسم فيما يأتي :

$\frac{1}{1000000}$	<p>10000000:1</p>	<p>4 سنتمتر على الخريطة = 40 كم على الواقع</p>		<p>شكل مقياس الرسم</p>
				<p>نوع مقياس الرسم</p>

	<p>مهمة رقم ( )</p> <p>المبحث : الدراسات الاجتماعية</p> <p>الصف: السادس</p>		 <p>مدارس الكلية العلمية الاسلامية</p> <p>جبل عمان/ الجبيهة</p>
<p>الشعبة : ( )</p>	<p>الدرس : الخريطة مفهومها وأنواعها</p>	<p>اسم الطالب :</p>	

النتائج التعليمية المتوقعة: يحدد أشكال مقياس الرسم :

اكتب اسم مقياس الرسم فيما يأتي :

$\frac{1}{1000000}$	<p>10000000:1</p>	<p>4 سنتمتر على الخريطة = 40 كم على الواقع</p>		<p>شكل مقياس الرسم</p>
				<p>نوع مقياس الرسم</p>