

إجابة مهمات درس الخريطة للصف السادس

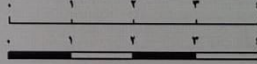
78	مهمة رقم () المبحث : الدراسات الاجتماعية الصف : السادس	مدارس الكلية العلمية الإسلامية جبل عمان / الجبيهة
الشعبة : ()	الدرس : الخريطة مفهومها وأنواعها	اسم الطالب :


النتائج التعليمية المتوقعة: يتوقع من الطالب بعد تنفيذ المهمة ، أن يكون قادراً على تحديد مفهوم الخريطة ويميز بين أنواعها:
مهمة: صل بخط بين أنواع الخرائط والأشكال التي تمثلها:

أنواع الخرائط	أمثلة عليها
الخرائط الطبيعية	خرائط الطقس
	خرائط توزيع السكان
	الخرائط السياسية
	الخرائط السياحية
الخرائط البشرية	خرائط الأمطار
	خرائط توزيع النبات الطبيعي
	الخرائط التاريخية
	خرائط أشكال سطح الأرض

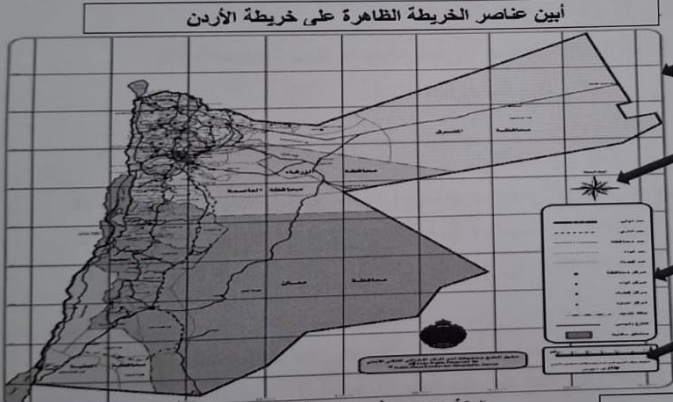
78	مهمة رقم () المبحث : الدراسات الاجتماعية الصف : السادس	مدارس الكلية العلمية الإسلامية جبل عمان / الجبيهة
الشعبة : ()	الدرس : الخريطة مفهومها وأنواعها	اسم الطالب :

النتائج التعليمية المتوقعة: يحدد أشكال مقياس الرسم :
ب اسم مقياس الرسم فيما يأتي :


1 1000000	10000000:1	4 سنتيمتر على الخريطة = 40 كم على الواقع		كل مقياس الرسم
كسري	نسبي	كتابي	خطي	ع مقياس الرسم

	مهمة رقم () المبحث : الدراسات الاجتماعية الصف : السادس	مدارس الكلية العلمية الإسلامية جبل عمان / الجببية
اسم الطالب : () : الشعبة	الدرس : الخريطة مفاهيمها وأنواعها	النتائج التعليمية المتوقعة: يتوقع من الطالب بعد تنفيذ المهمة ، أن يكون قادراً على تحديد عناصر الخريطة. مهمة: عين عناصر الخريطة التالية:

أبين عناصر الخريطة الظاهرة على خريطة الأردن



الشكل (2): خريطة المملكة الأردنية الهاشمية.

	ورقة عمل () المبحث : الدراسات الاجتماعية الصف : السادس	مدارس الكلية العلمية الإسلامية
اسم الطالب : () : الشعبة	الوحدة : الثالثة الدرس : الخريطة مفاهيمها وأنواعها	اليوم / التاريخ : 2025 / 10 / النتائج : حساب المسافة الحقيقية بمعرفة مقياس رسم الخريطة.


سؤال: احسب المسافة الحقيقية بين محافظات المملكة مستعيناً بالخريطة الآتية، علماً بأن مقياس الرسم لهذه الخريطة هو (1 : 50 كم)

1 - احسب المسافة الحقيقية بين السلط و مادبا إذا علمت أن المسافة على الخريطة تساوي 1 سم ؟
 على الواقع $1 \text{ cm} = 50 \text{ km}$
 $1 \text{ cm} \times ? = ?$
 الجواب: $1 \times 50 = 50 \text{ km}$

2 - احسب المسافة الحقيقية بين مدينتي الكرك و العقبة إذا علمت أن المسافة على الخريطة تساوي 4 سم ؟
 على الواقع $1 \text{ cm} = 50 \text{ km}$
 $4 \text{ cm} \times ? = ?$
 الجواب: $4 \times 50 = 200 \text{ km}$

3 - ما المسافة الحقيقية بين مدينتي عمان و العقبة إذا علمت أن المسافة على الخريطة تساوي 6 سم ؟
 على الواقع $1 \text{ cm} = 50 \text{ km}$
 $6 \text{ cm} \times ? = ?$
 الجواب: $6 \times 50 = 300 \text{ km}$

4 - احسب المسافة الحقيقية بين عمان و إربد إذا علمت أن المسافة على الخريطة تساوي 1.8 سم ؟
 على الواقع $1 \text{ cm} = 50 \text{ km}$
 $1.8 \text{ cm} \times ? = ?$
 الجواب: $1.8 \times 50 = 90 \text{ km}$



مقياس الرسم: 1 : 50 كيلومترًا

مهم: لكل خريطة مقياس رسم خاص بها.