
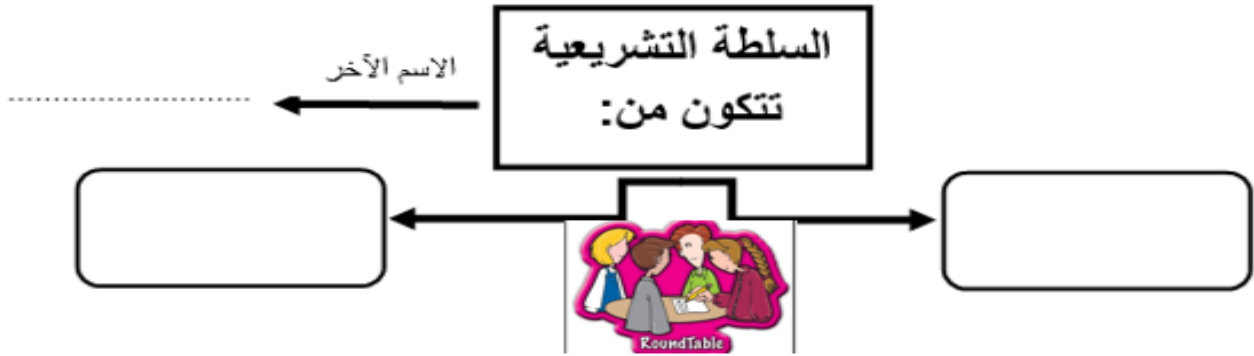




 <p>المدرسة :بنين جبل عمان</p>	<p>ورقة عمل رقم ()</p> <p>المبحث : الدراسات الاجتماعية</p> <p>الصف : .الخامس</p>		 <p>مدارس الكلية العلمية الاسلامية</p> <p>جبل عمان/الجبية</p>
<p>الشعبة : ()</p>	<p>الدرس : السلطة التشريعية</p>		<p>اسم الطالب : _</p>





 <p>المدرسة :بنين جبل عمان</p>	<p>ورقة عمل رقم ()</p> <p>المبحث : الدراسات الاجتماعية</p> <p>الصف : .الخامس</p>		 <p>مدارس الكلية العلمية الاسلامية</p> <p>جبل عمان/الجبية</p>
<p>الشعبة : ()</p>	<p>الدرس : السلطة التشريعية</p>		<p>اسم الطالب : _</p>





 <p>المدرسة :بنين جبل عمان</p>	<p>ورقة عمل رقم ()</p> <p>المبحث : الدراسات الاجتماعية</p> <p>الصف : .الخامس</p>		 <p>مدارس الكلية العلمية الاسلامية</p> <p>جبل عمان/الجبية</p>
<p>الشعبة : ()</p>	<p>الدرس : السلطة التشريعية</p>		<p>اسم الطالب : _</p>



 <p>المدرسة: بنين جبل عمان</p>	<p>ورقة عمل رقم ()</p> <p>المبحث : الدراسات الاجتماعية</p> <p>الصف: .الخامس</p>		 <p>مدارس الكلية العلمية الاسلامية</p> <p>جبل عمان/الجبيلة</p>
<p>الشعبة : ()</p>	<p>الدرس : السلطة التشريعية</p>	<p>اسم الطالب : _</p>	

المهمة: قارن بين مجلس النواب والأعيان حسب الجدول التالي:

مجلس الأعيان	مجلس النواب	
		من يختاره؟
		كم عدد أعضاؤه؟
١	١	ما هي شروط العضوية؟
٢	٢	

 <p>المدرسة: بنين جبل عمان</p>	<p>ورقة عمل رقم ()</p> <p>المبحث : الدراسات الاجتماعية</p> <p>الصف: .الخامس</p>		 <p>مدارس الكلية العلمية الاسلامية</p> <p>جبل عمان/الجبيلة</p>
<p>الشعبة : ()</p>	<p>الدرس : السلطة التشريعية</p>	<p>اسم الطالب : _</p>	

المهمة: قارن بين مجلس النواب والأعيان حسب الجدول التالي:

مجلس الأعيان	مجلس النواب	
		من يختاره؟
		كم عدد أعضاؤه؟
١	١	ما هي شروط العضوية؟
٢	٢	