



اسم الطالب/ الطالبة: .....

الصف: الرابع الشعبة ( )

التاريخ: / / 2025م

المادة: العلوم الوحدة: الأولى الموضوع: ورقة عمل علاجية

### الدرس الأول: التصنيف

#### السؤال الأول: أكمل العبارات التالية:

1. التصنيف هو تقسيم الكائنات الحية إلى مجموعات بناءً على .....
2. أهمية التصنيف أنه: .....

#### السؤال الثاني:

أعطى معلم العلوم المجموعة التالية من الحيوانات وطلب من طلاب الصف الرابع تصنيفها إلى مجموعتين:



فقام علي بتصنيف الحيوانات كما يلي:

المجموعة الأولى	المجموعة الثانية
سمك القرش، دولفين	جمل، أفعى، غزال

أما الطالبة لين فقد صنفتها في مجموعتين كما يلي:

المجموعة الأولى	المجموعة الثانية
سمك القرش، أفعى، دولفين	جمل، غزال

لماذا برأيك توزعت الحيوانات بطريقة مختلفة في كل من الحالتين؟ ما الأساس الذي اعتمدته علي في تصنيف هذه الحيوانات؟ وما الأساس الذي اعتمدته لين؟

الأساس الذي اعتمدته علي: .....

الأساس الذي اعتمدته لين: .....






## الدرس الثاني: تصنيف النباتات

### السؤال الأول: أكمل العبارات التالية:

1. تسمى النباتات التي تتكاثر عن طريق البذور ..... مثل البطيخ والبندورة.
2. تقسم النباتات البذرية إلى قسمين: نباتات زهرية و .....  
والسرو.
3. تسمى النباتات التي تكون البذور داخل مخاريط، ولا تحمل أزهارا ..... مثل الصنوبر.
4. تسمى النباتات التي تكون أزهارا تنمو وتتحول إلى ثمار في داخلها البذور ..... مثل الليمون،  
والتفاح.
5. تقسم النباتات الزهرية إلى قسمين: نباتات ذات فلق و .....

### السؤال الثاني: لأي صنف تنتمي النباتات التالية وكيف استدليت على ذلك؟

النباتات	الصنف	المؤشر
		
		
		



### الدرس الثالث: تصنيف الحيوانات



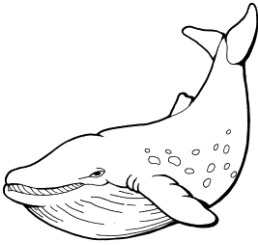
- فسر: لم لا يُعتبر الطاووس من الثدييات.

.....



- تنتمي التماسيح لمجموعة الزواحف، صف خصائص التماسيح.

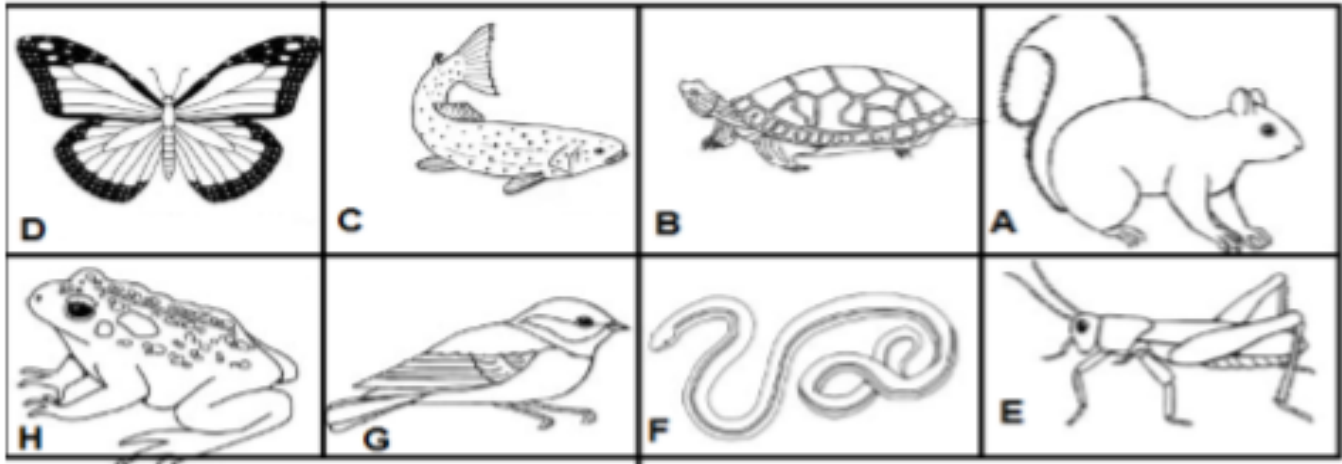
.....



- صحّ الخطأ في العبارة التالية: ( ينتمي الحوت لمجموعة الأسماك )

.....

• ضع دائرة حول الإجابة الصحيحة فيما يأتي:



1- إلى أي المجموعات الحيوانية ينتمي الكائن الحي G؟			
التدبيات	البرمائيات	الطيور	الحشرات

2- ما الكائن الحي الذي ينتمي لنفس المجموعة الحيوانية التي ينتمي إليها السحلية؟			
أ- C	ب- H	ج- F	د- E

3- أي الكائنات الحية جلده رطب ويتنفس بعد البلوغ عن طريق الرئتين ؟			
أ- C	ب- H	ج- F	د- E

4- أي الخيارات التالية تشمل كائنين حين ينتميان لنفس المجموعة الحيوانية؟			
أ- E + D	ب- B + C	ج- G + D	د- H + B

5- أي الحيوانات يتكاثر بالولادة؟			
أ- F	ب- A	ج- C	د- E

6- ماذا يغطي جسم الأسماك؟			
أ- الحراشف	ب- الجلد	ج- القشور	د- الخياشيم